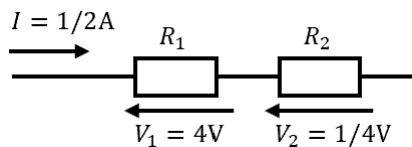
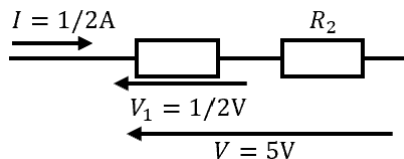


問1 各問で与えられる直流回路について答えよ。(小問各5点)

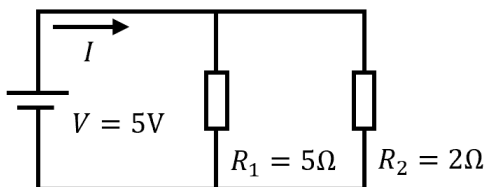
(1) R_1 と R_2 の値を求めよ。



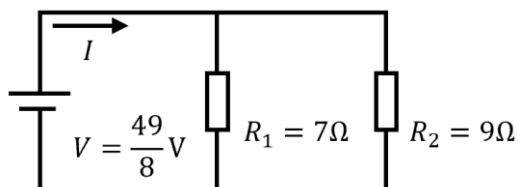
(2) R_2 の値を求めよ。



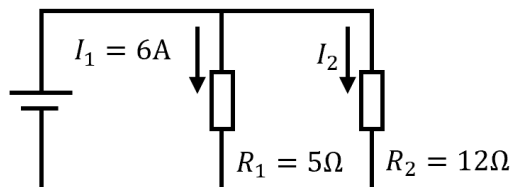
(3) I の値を求めよ。



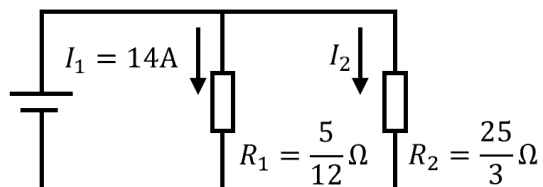
(4) I の値を求めよ。



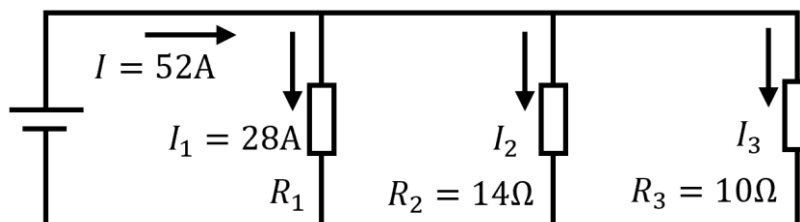
(5) I_2 の値を求めよ。



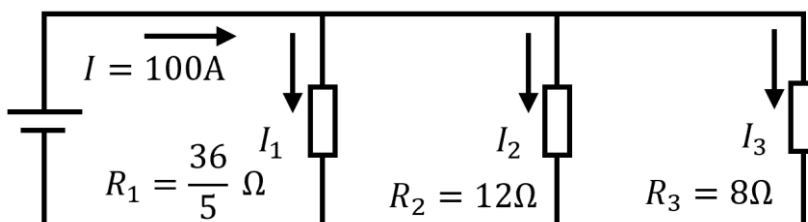
(6) I_2 の値を求めよ。



(7) I_2 と I_3 の値を求めよ。

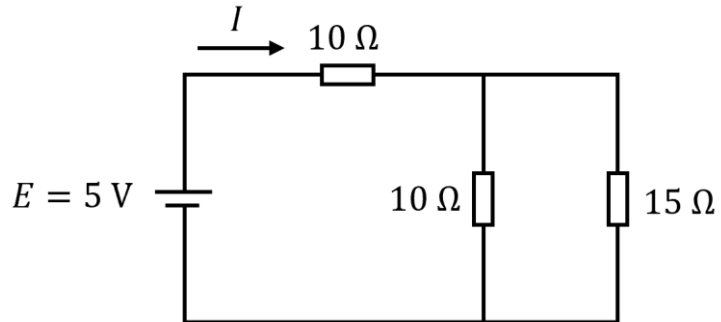


(7) I_1 と I_2 と I_3 の値を求めよ。

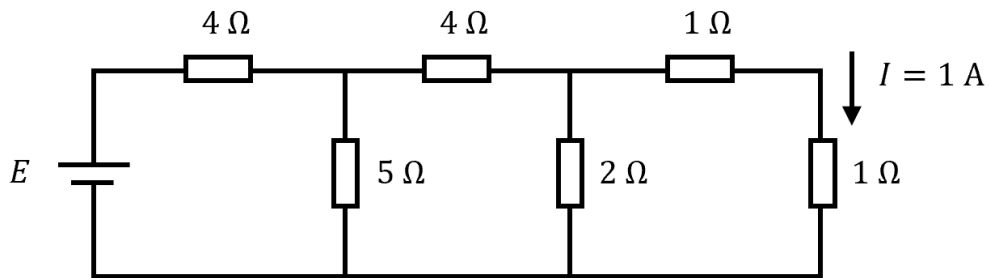


問2 各問で与えられる直流回路について答えよ。(小問各 10 点)

(1) 電流 I [A] の値を求めよ。



(2) 回路の電源電圧 E [V] の値を求めよ。



(3) 回路の電流 I [A] の値を求めよ。

